

# GEOGRAFÍA DE CUBA



**CUADERNO DE MAPAS  
Y ACTIVIDADES**  
sexto grado

# **CUADERNO DE MAPAS Y ACTIVIDADES**



## **GEOGRAFÍA DE CUBA sexto grado**

M. Sc. Josefa de la C. Rodríguez Cantero

M. Sc. Marleny González Ruiz

Este material forma parte del conjunto de trabajos dirigidos al Tercer Perfeccionamiento Continuo del Sistema Nacional de la Educación General. En su elaboración participaron maestros, metodólogos y especialistas a partir de concepciones teóricas y metodológicas precedentes, adecuadas y enriquecidas en correspondencia con el fin y los objetivos propios de cada nivel educativo, de las exigencias de la sociedad cubana actual y sus perspectivas.

Ha sido revisado por la subcomisión responsable de la asignatura perteneciente a la Comisión Nacional Permanente

para la revisión de planes, programas y textos de estudio del Instituto Central de Ciencias Pedagógicas del Ministerio de Educación.

Queda rigurosamente prohibida, sin la autorización previa y por escrito de los titulares del **copyright** y bajo las sanciones establecidas en las leyes, la reproducción total o parcial de esta obra por cualquier medio o procedimiento, así como su incorporación a un sistema informático.

**Material de distribución gratuita. Prohibida su venta**

#### **Edición y corrección:**

- M. Sc. Judith María Mugica Ruiz

#### **Diseño de cubierta:**

- Camila Noa Clavero

#### **Diseño:**

- Instituto Superior de Diseño (ISDi):  
Adriana Vigil Hernández • Alessandra Fuentes Tiel • Jennifer González Espinosa • Thalía Ibarra Villavivencio  
• Laura Ramos García • Ernesto Alejandro Gilart Ruiz • María Fernanda Lemus González • Aldahir Santana Guzmán • Litsary Zamora Rodríguez • Samira González González • Marian Ramos Rodríguez • Camila Carpio Crespo • Camila Noa Clavero • M. Sc. Maité Fundora Iglesias • Dr. C. Ernesto Fernández Sánchez

#### **Ilustración y emplane:**

- Camila Noa Clavero

© Ministerio de Educación, Cuba, 2025

© Editorial Pueblo y Educación, 2025

ISBN 978-959-13-4981-1 (Versión impresa)

ISBN 978-959-13-5050-3 (Versión digital)

EDITORIAL PUEBLO Y EDUCACIÓN Ave.

3.<sup>a</sup> A No. 4601 entre 46 y 60, Playa, La

Habana, Cuba. CP 11300.

epe@enet.cu




**Educando:** \_\_\_\_\_

**Grupo:** \_\_\_\_\_

**Institución educativa:** \_\_\_\_\_


**Municipio:** \_\_\_\_\_

**Provincia:** \_\_\_\_\_



# ÍNDICE

|  |            |
|--|------------|
| <b>Al educando .....</b>                       | <b>VII</b> |
| <b>El mundo. Físico .....</b>                  | <b>1</b>   |
| <b>El mundo. Político-administrativo .....</b> | <b>2</b>   |
| <b>El Caribe .....</b>                         | <b>3</b>   |
| <b>Cuba. Político-administrativo .....</b>     | <b>5</b>   |
| <b>El archipiélago cubano .....</b>            | <b>5</b>   |




# Al educando

Soy tu cuaderno de mapas y vengo acompañado de varias actividades que te serán de utilidad para consolidar las localizaciones geográficas. Seré para ti un gran amigo, pero no estaré solo durante todo el curso escolar: iré de la mano de dos inseparables compañeros: el libro de texto y el atlas geográfico. Para ello debes consultar el índice y así encontrarás con facilidad los mapas y las actividades que debes realizar bajo la orientación de tu maestro.

En los mapas que contiene este cuaderno podrás localizar lugares o accidentes geográficos que has estudiado en clases.

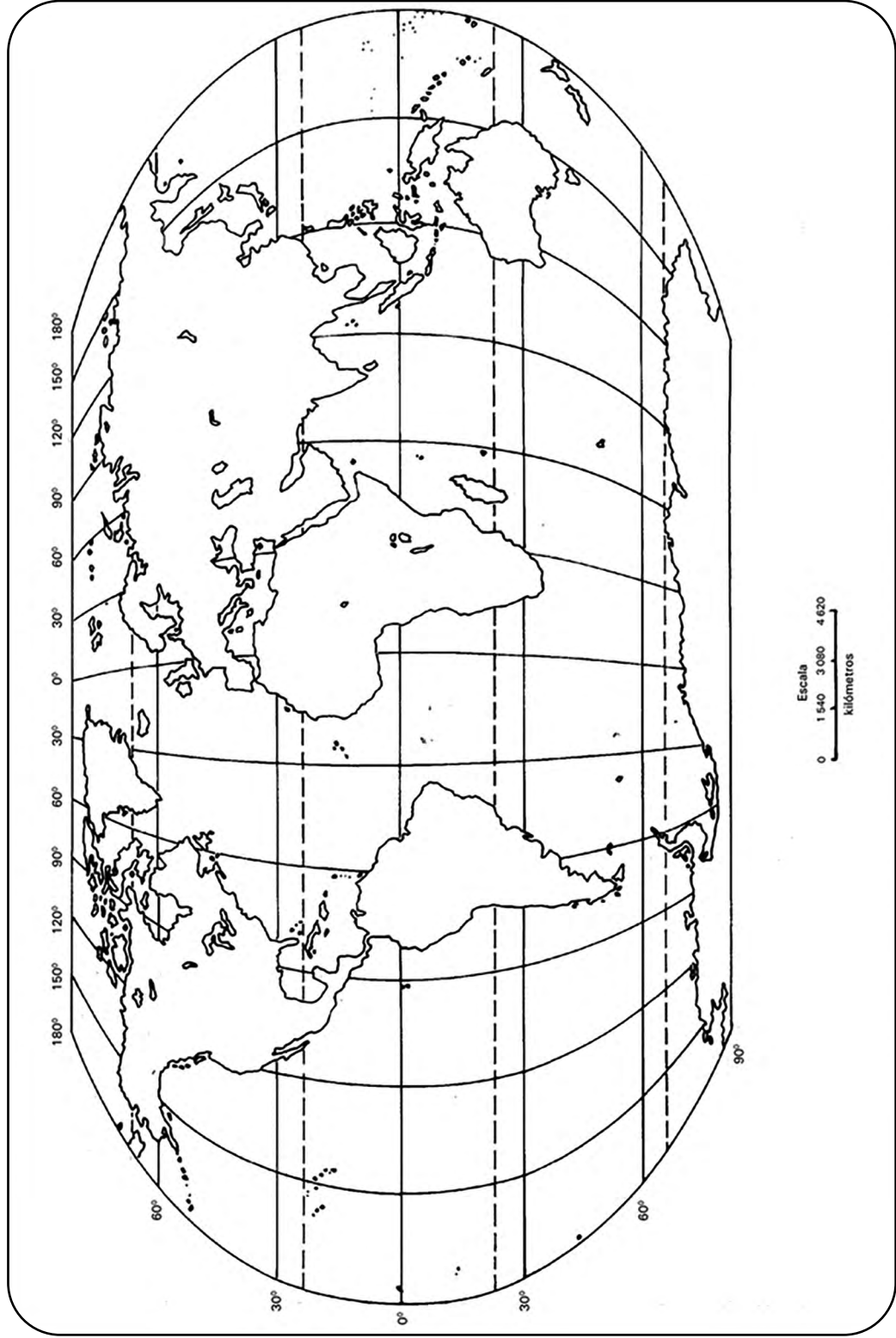
Aparecen también actividades que te permitirán consolidar lo estudiado en clases; hojas cuadriculadas donde podrás confeccionar una red de cuadrículas, que se asemejen a las coordenadas geográficas y ubicar, según las coordenadas geográficas, distintos puntos, tal como aprendiste en quinto grado.

Debes cuidarlo, mantenerlo forrado, trabajar con limpieza y cuidar la ortografía.



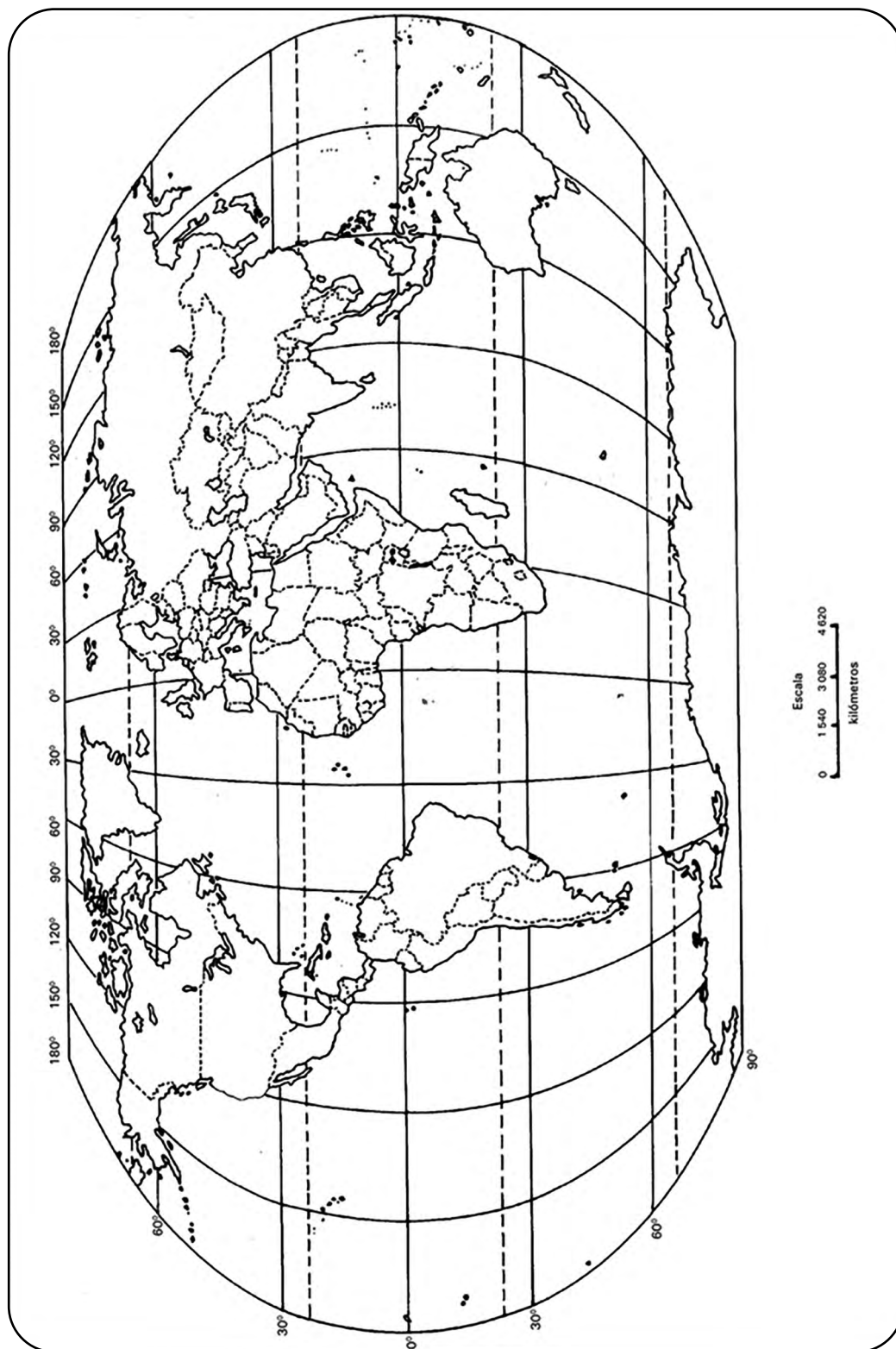
## EL MUNDO. FÍSICO

1. En el siguiente mapa de contorno traza con color rojo el ecuador y el trópico de Cáncer, y con color azul el meridiano de Greenwich.



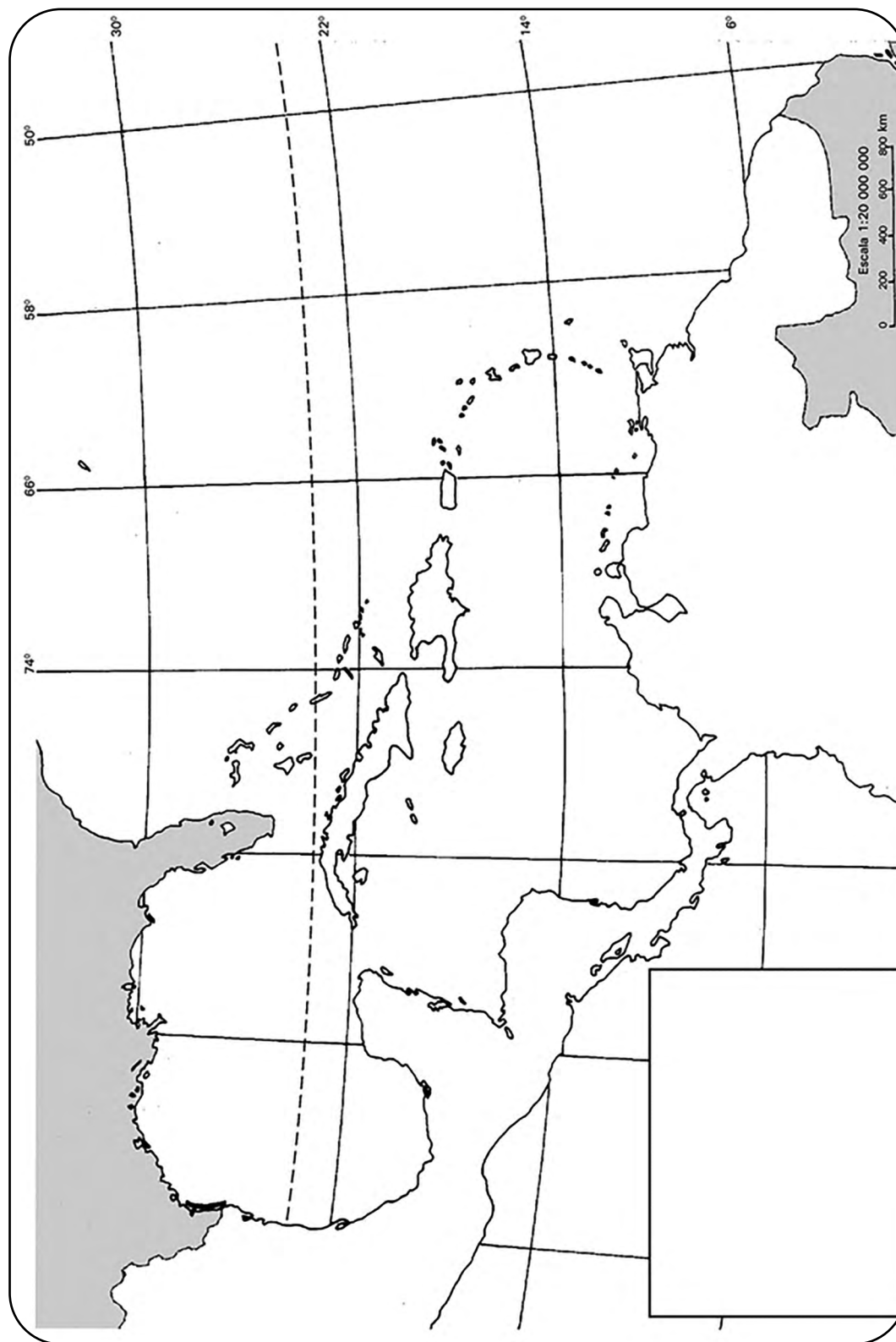
## EL MUNDO. POLÍTICO-ADMINISTRATIVO

2. En el siguiente mapa localiza las masas continentales: América, África, Eurasia, Australia y la Antártida; y los océanos Pacífico, Atlántico, Índico y Glacial Ártico.



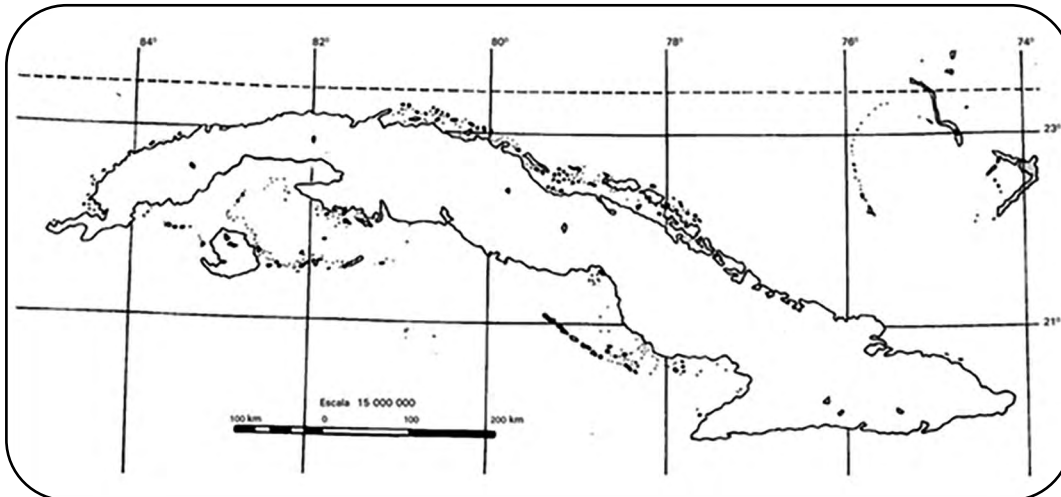
## EL CARIBE

3. En el siguiente mapa localiza los límites del archipiélago cubano y las tierras más cercanas a Cuba.



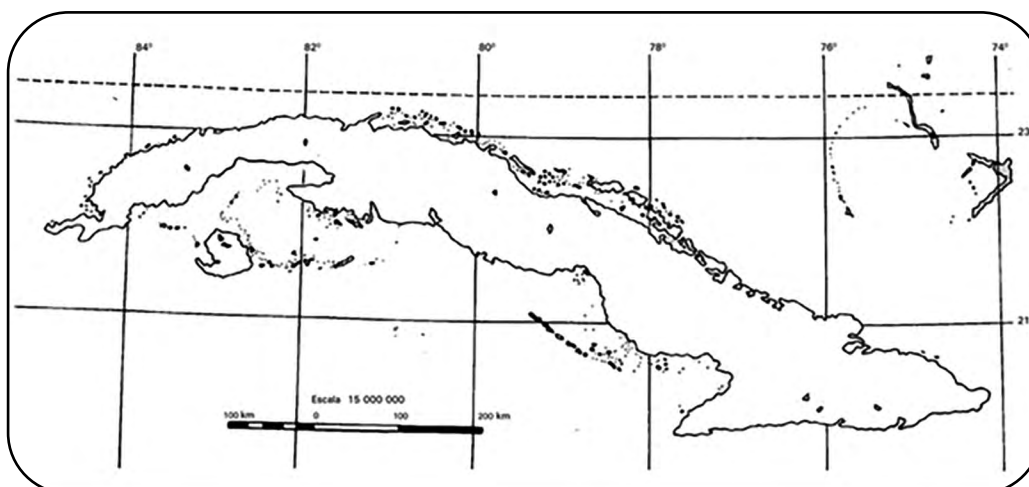
4. Localiza los puntos extremos del archipiélago cubano:

- a) Septentrional o norte: Cayo Cruz del Padre a los  $23^{\circ} 16' N$  y  $80^{\circ} 55' W$ .
- b) Meridional o sur: Punta del Inglés a los  $19^{\circ} 49' N$  y  $77^{\circ} 40' W$ .
- c) Occidental u oeste: Cabo San Antonio a los  $21^{\circ} 52' N$  y  $84^{\circ} 57' W$ .
- d) Oriental o este: Punta del Quemado a los  $20^{\circ} 11' N$  y  $74^{\circ} 09' W$ .

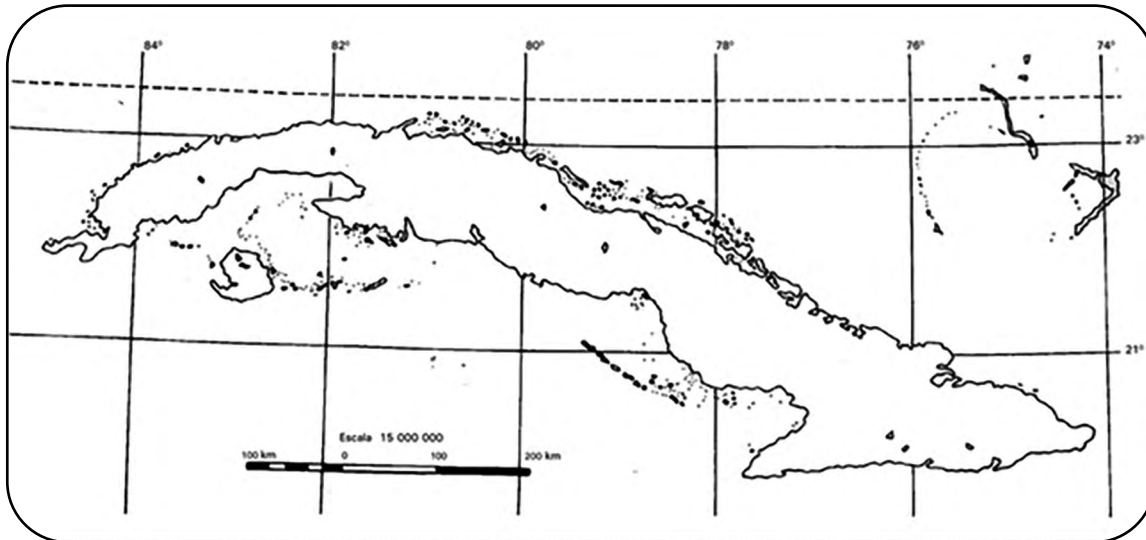


5. En el siguiente mapa localiza los subarchipiélagos que rodean a la isla de Cuba, a partir de las siguientes características:

- a) Subarchipiélago situado al sur de la isla de Cuba; es de importante significación porque en él se encuentra la Isla de la Juventud.
- b) Subarchipiélago, con una extensión de 360 km, integrado por numerosos cayos. Su disposición le ha merecido el nombre de Cayos y Laberinto de las Doce Leguas.
- c) Subarchipiélago conocido por Jardines del Rey, integrado por unos 400 cayos e islas, con una longitud de más 470 km; en él se encuentra Cayo Romano.
- d) Subarchipiélago conocido también por Santa Isabel, formado por unos 60 cayos y bancos que dejan entre sí varios canales, los cuales permiten el acceso de pequeñas embarcaciones.

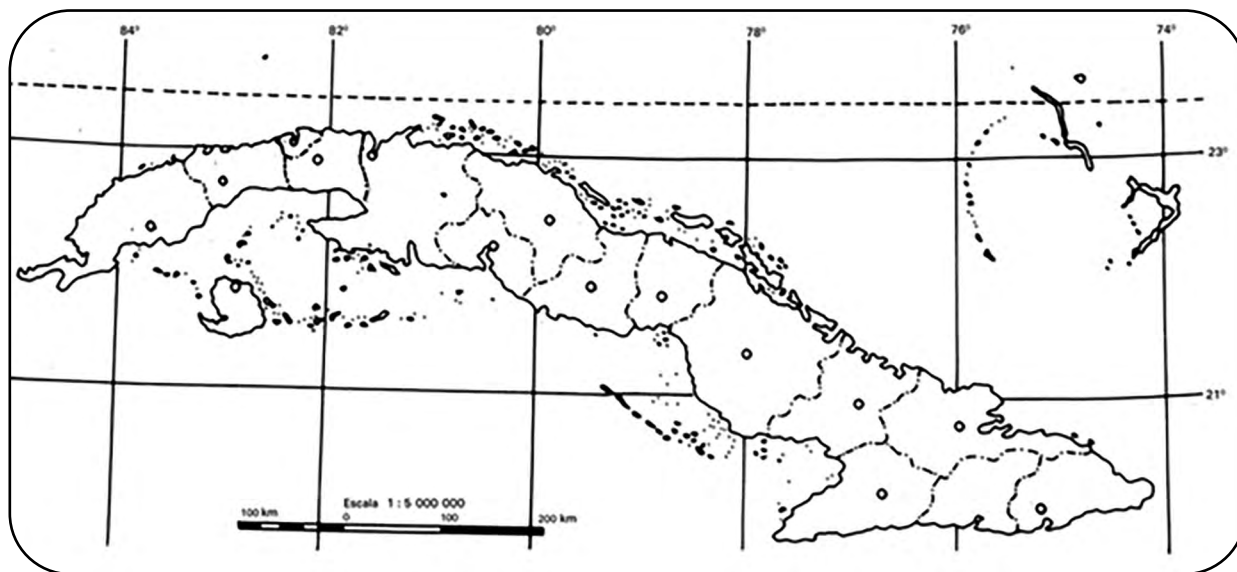


6. Traza en el siguiente mapa el eje longitudinal de Cuba, así como la parte más ancha y la parte más estrecha de Cuba. Puedes auxiliarte por los datos que aparecen en tu libro de texto.



## CUBA. POLÍTICO-ADMINISTRATIVO

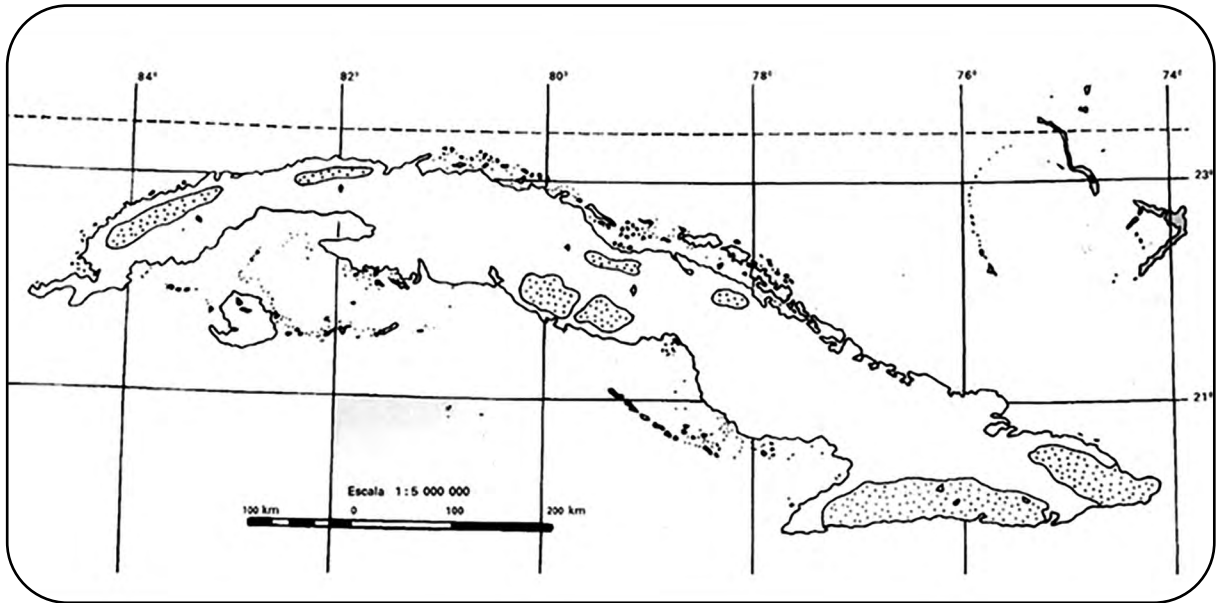
7. Localiza en el siguiente mapa las provincias de Cuba y el municipio especial Isla de la Juventud.



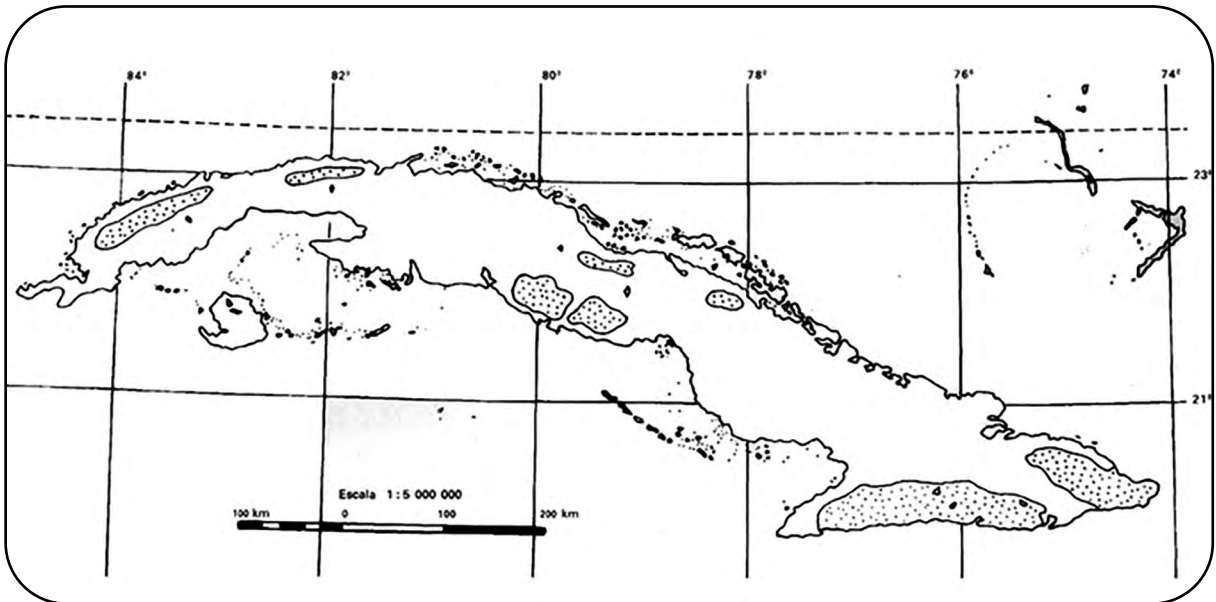
## EL ARCHIPIÉLAGO CUBANO

8. Localiza en el siguiente mapa, las formas de relieve que se indican. Utiliza una leyenda:
- a) Llanura del Cauto.
  - b) Alturas de Santa Clara.
  - c) Alturas de Maniabón.
  - d) Alturas del norte de La Habana-Matanzas.

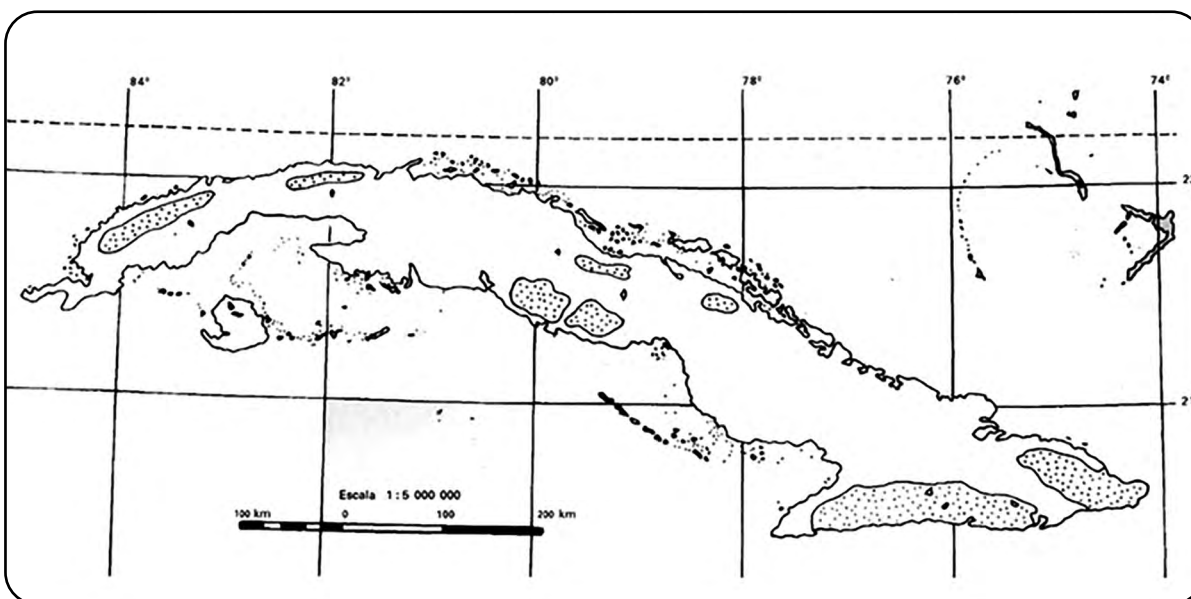
- e) Cordillera de Guaniguanico.
- f) Montañas de Guamuhaya.
- g) Montañas de Nipe-Sagua-Baracoa.
- h) Sierra Maestra.



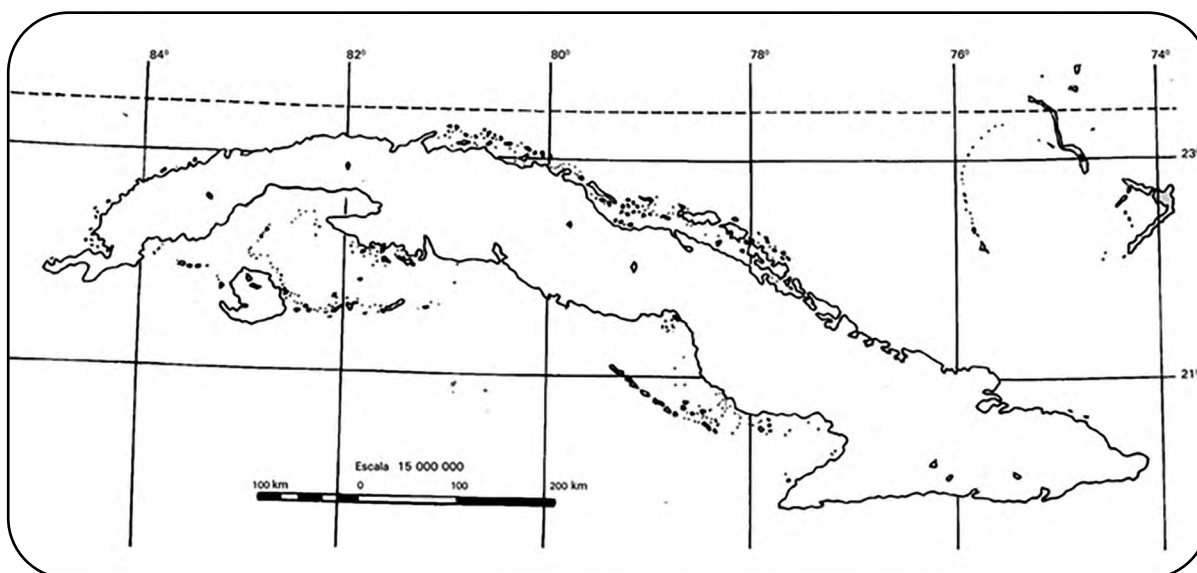
9. Localiza en el mapa de contorno áreas donde se encuentren rocas ígneas, sedimentarias y metamórficas. Auxíliate del mapa de rocas del atlas geográfico.



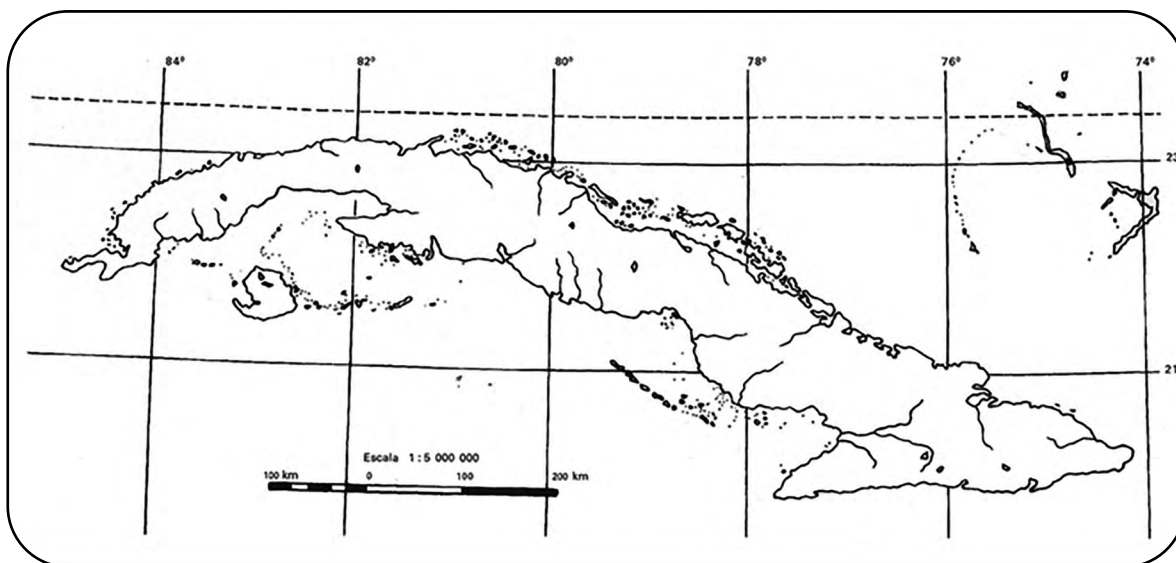
10. Auxíliate del mapa de carso del atlas geográfico y localiza en el mapa de contorno, utilizando una leyenda, áreas donde se encuentren manifestaciones de:
- a) Carso de altura
  - b) Carso de ciénaga
  - c) Carso de costa
  - d) Carso de llanura



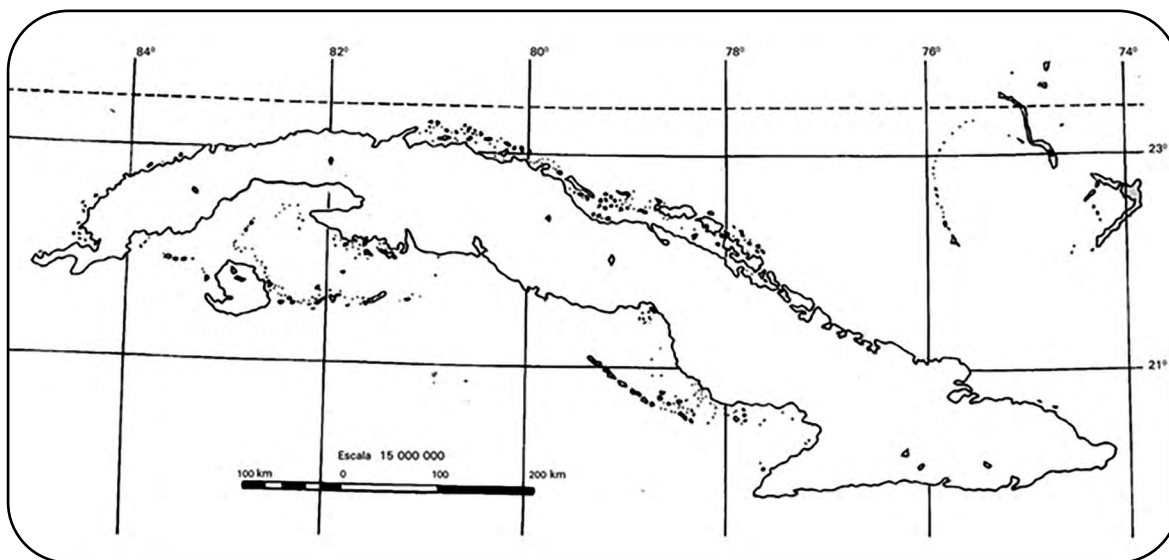
- 11.** Localiza en el mapa de contorno los siguientes accidentes costeros:
- Penínsulas: Guanahacabibes, Zapata e Hicacos.
  - Golfos: Ana María, Batabanó y Guacanayabo.
  - Cayos: Largo, Coco y Romano.
  - Playas: Varadero, Guardalavaca y Santa María.
  - Bahías de bolsa: La Habana, Mariel, Santiago de Cuba, Nipe y Cienfuegos.
  - Bahías abiertas: de Cochinos y de Matanzas.
  - Zonas de pesca: golfo de Guacanayabo y golfo de Batabanó.



- 12.** Localiza en el mapa de contorno:
- Ríos: Cuyaguaje, Almendares, Zaza, Toa y Cauto.
  - Lagunas: del Tesoro y de la Leche.
  - Ciénagas: Zapata y Lanier.
  - Embalse: Zaza.



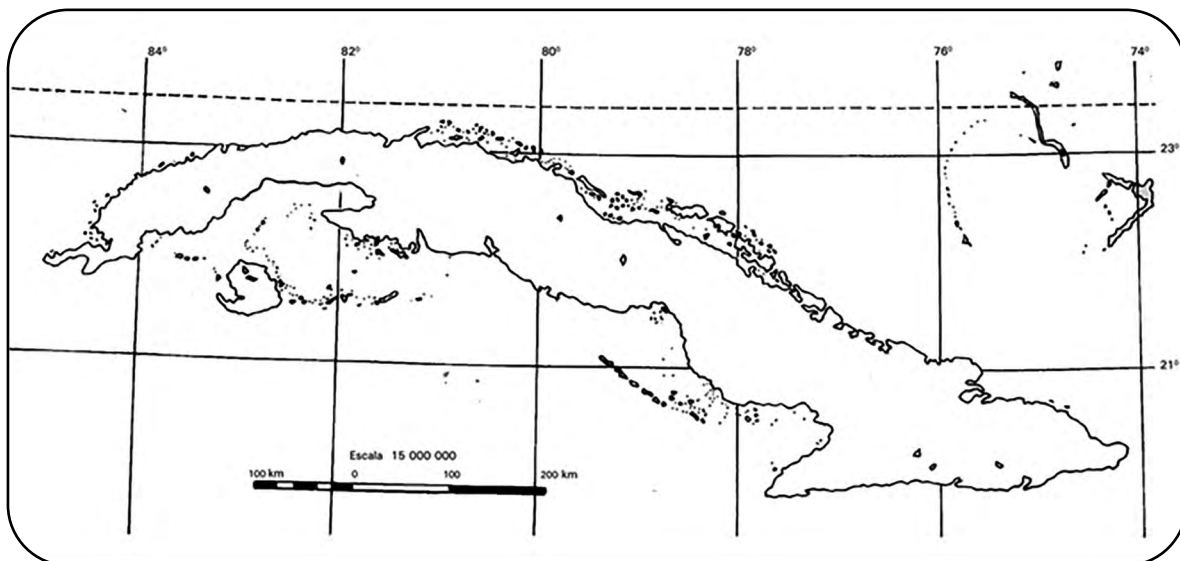
- 13.** Localiza en el mapa de contorno, áreas de cultivo de:
- Caña de azúcar: llanura Occidental, llanura del sur de Camagüey-Las Tunas.
  - Tabaco: llanura del sur de Pinar del Río y provincia de Sancti Spíritus.
  - Café: zonas montañosas.



- 14.** Observa el mapa de Cuba que aparece en tu atlas geográfico que muestra los yacimientos minerales de Cuba.

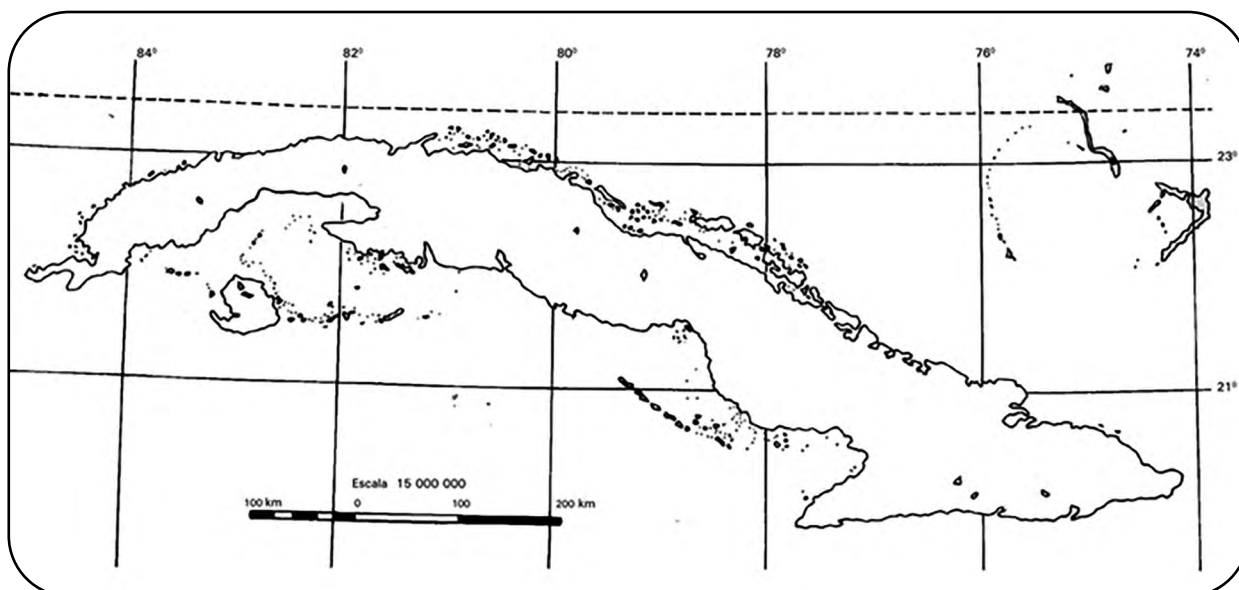
Localiza en el siguiente mapa de contorno las zonas de los siguientes yacimientos minerales, utilizando una leyenda:

- Petróleo
- Níquel
- Hierro
- Cobre
- Mármol
- Caliza

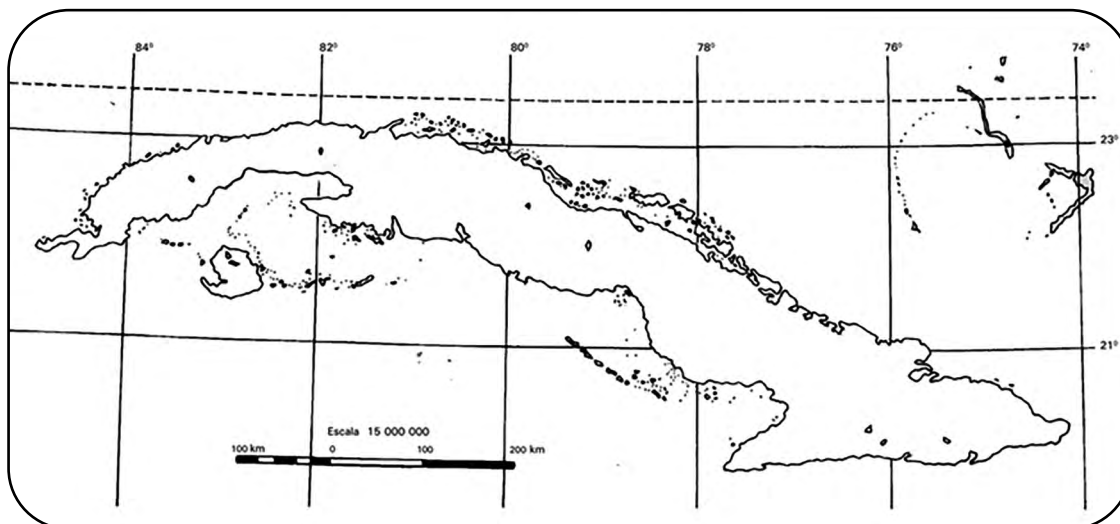


**15.** Localiza en el mapa de contorno, utilizando una simbología para los sitios de Patrimonio Mundial Natural y otro para los sitios Ramsar.

- Los sitios de Patrimonio Mundial Natural:
  - Parque nacional Desembarco del Granma.
  - Parque nacional Alejandro de Humboldt.
- Los sitios Ramsar:
  - Ciénaga de Zapata.
  - Buenavista.
  - Ciénaga de Lanier y el sur de la Isla de la Juventud.
  - Gran Humedal del Norte de Ciego de Ávila.
  - Delta del Cauto.
  - Río Máximo en Camagüey.

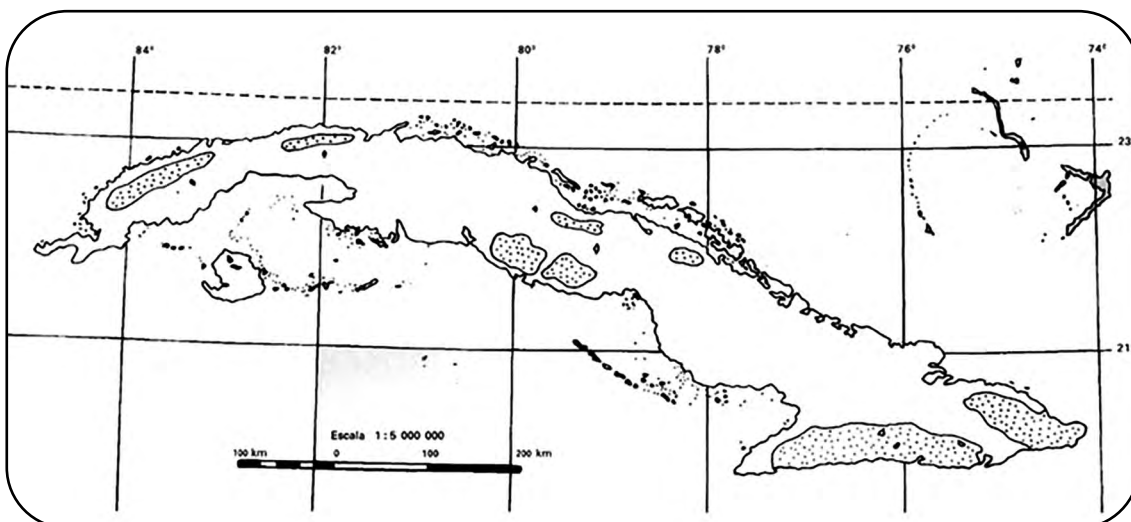


16. Localiza en el mapa los límites de las tres regiones geográficas estudiadas; debes apoyarte en tu atlas geográfico:
- Región occidental.
  - Región central.
  - Región oriental.



17. Localiza en el mapa los siguientes paisajes representativos de cada región geográfica; debes auxiliarte de tu atlas geográfico.

- Región Occidental:
  - Paisaje Llanura Occidental.
  - Paisaje Cordillera de Guaniguanico.
- Región Central:
  - Paisaje Llanuras y alturas de Santa Clara o Cubanacán.
  - Paisaje Montañas de Guamuhaya.
- Región Oriental:
  - Paisaje Llanuras y alturas del centro Camagüey-Las Tunas.
  - Paisaje Sierra Maestra.



## Mapas auxiliares

